


Taller guía 5° Unidades de tiempo

1. Observa el ejemplo y completa:

- 90 min = 1 h 30 min

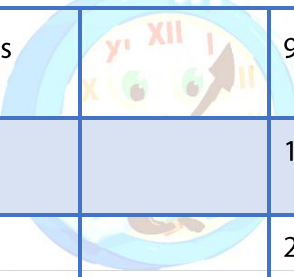
- A. 165 min=
- B. 75 min=
- C. 10080 min=
- D. 240 min=



2. ¿Cuántos segundos son?

- A. 240 min=
- B. 300 min=
- C. 1800 min=
- D. 270 min=

3. Une con flechas el tiempo de duración aproximado de:

La clase matemáticas		90 min
Una película		1 h y 30 min
Un partido de futbol		2 horas
La ruta en llegar a la casa		45 min

4. ¿Qué hora era hora y media hora antes?

- A. El diez menos cuarto.
- B. Las ocho y cuarenta y tres
- C. Las cinco y veinticuatro.
- D. Las cinco y diecisiete.



5. "Una tortuga inició su viaje anteayer y regresó pasado mañana".

- A. ¿Cuántos días duro el viaje?
- B. ¿Cuántas horas?
- C. ¿Cuántos minutos?
- D. ¿Cuántos segundos?



6. Calcula la cantidad de tiempo que ha transcurrido entre:

- A. Las 6 de la mañana y las 2 de la tarde.
- B. Las 10 de la noche y las 5 de la tarde.
- C. Las 2 de la tarde y las 3 de la mañana.
- D. Las 9 de la mañana y las 7 de la noche.

7. En el reloj del terminal de transporte marcan las 23:36 horas. Cada 25 minutos sale un bus. Si el bus anterior pasó hace un minuto ¿a qué hora pasará el siguiente?

8. ¿Cuánto tiempo pasa desde el miércoles a las 21:00 horas hasta el sábado a las 14:45 horas?

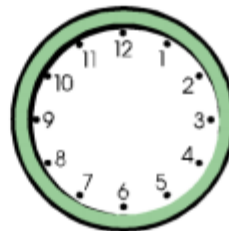
9. Dibuja las manecillas en los relojes:



13:06



18:35



23:09



09:47

10. Un partido de fútbol dura 1 hora y media. ¿cuántas horas y minutos son? ¿y cuántos cuartos de hora?