


La decena, docena y centena


Laura, Camilo, Juan, Valentina y Simón van a comprar algunas golosinas en la dulcería de Don pacho.



= * \$ actividad

- De acuerdo a la ilustración relaciona:
 - Une con una línea la canasta para cada niño.
 - Encierra una pinza por cada niño.

2. Contesta:

- ¿Cuántos  hay?
- De la golosina que más hay es:
- De la golosina que menos hay es:




3. Marca con una X la respuesta:

- ¿Hay más  que ? Si No
- ¿Hay menos  que ? Si No
- ¿Hay tantos  como ? Si No


D. Dibuja un grupo de refrescos de igual cantidad que el grupo de chicles.

4. Don Pacho empaca bastones, descubre como lo hace y ayúdalo:



Santiago ha formado una pequeña colección de canicas de diferentes colores. Así, diez de sus canicas son rojas, cinco de ellas son verdes, quince son azules y dos son amarillas.

5. Colorea las canicas de Santiago:



6. Ayúdale a Santiago a dibujar ordenadamente todas sus canicas en grupos de diez unidades:

- ¿Cuántos grupos de diez unidades obtuviste?
- ¿Sobraron canicas? ¿Cuántas? ¿Cuántas canicas en total tiene Santiago?
- ¿Podemos afirmar que Santiago tiene dos decenas y tres unidades de canicas?
¿Por qué?
- Ubica el número de canicas de Santiago en la tabla de posiciones, realiza su descomposición en unidades y escríbelo en letras.

d	u

Descomposición: + =
Se lee:

7. Ayúdale a Santiago a completar las series de su canicas:

