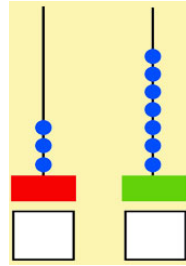
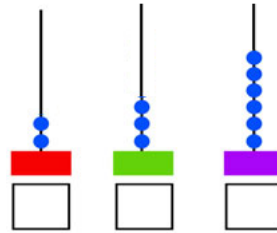


Taller guía grado 1º EL ÁBACO

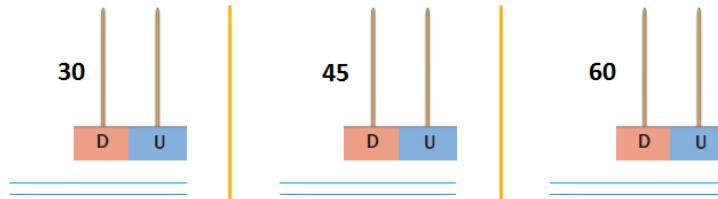
1. ¿Qué número se representa en el ábaco?



2. Escribe el número:

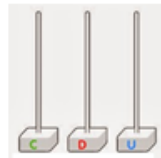


3. Escribe como se lee el número y represéntalo en el ábaco:

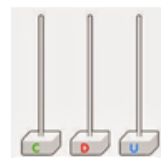


4. Representar en el ábaco:

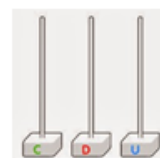
$2C+4D+5U=$



$4C+8D+2U=$



$6C+8D+3U=$



5. De acuerdo con las gráficas completa:

