




Taller guía conteo hasta 999

= * \$ actividad

Centenas Decenas Unidades y números de tres cifras.

1. Descifra el número que te presentamos, teniendo en cuenta que:

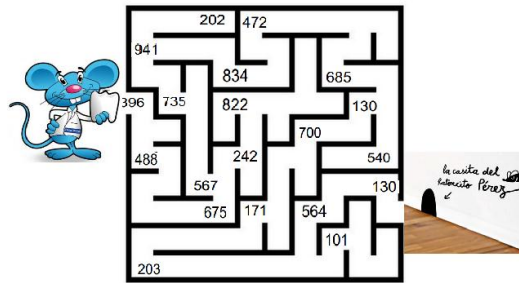
 Representa las centenas  representa las decenas  representa las unidades

   =

   =

Ayuda al ratoncito Perez a llegar a su casa para guardar el diente que trae. Para esto debes resolver el laberinto saltando de numero a numero según los valores posicionales:

- 39d 6u, 4c 8d 8u, 667d 5u, 5c 6d 7u, 7c 3d 5u, 9c4d1u, 8c 3d 4u, 47d 2u
- 6*100+8*10+5, 1*100+3*10+0, 7*100, 1*100+7*10+1, 2*100+3, 5*100+6*10+4, 1*100+3*10



Escribe que valor representa cada número subrayado, observa el ejemplo:

783 700

4. Que valor representa: 298 \longrightarrow



- Que valor representa: 968 →
- Que valor representa: 904 →
- En cual de los siguientes números el dígito 7 tiene mayor valor, márcalo con una x:

7232	8175	3728	3475	1547	3782
--------	--------	--------	--------	--------	--------

- Identifica la posición del número subrayado:

<u>231</u>	El 3 ocupa el lugar de las decenas
<u>479</u>	
<u>692</u>	
<u>4327</u>	

- Completa la tabla:

Número	Posición			Valor según la posición		
	C	D	U	C	D	U
587	5	8	7	500	80	7
759						
361						
950						
329						
482						

- Escribe el número que corresponde en cada caso:

165 Una decena mayor →

238 Una unidad mayor →

746 Una decena mayor →